



PROCESSO SELETIVO 2016/1

Linguagens, Códigos e suas Tecnologias; Matemática e suas Tecnologias; Ciências Naturais e suas Tecnologias; Ciências Humanas e suas Tecnologias e Redação

INSTRUÇÕES:

LEIA com atenção e cumpra rigorosamente as seguintes instruções, elas são parte da prova e das normas que regem este processo seletivo.

- A prova contém 20 questões a serem respondidas. No momento que recebê-la, você deve conferi-la, verificando se está completa. Caso contrário, deve solicitar a sua substituição.
- A prova é sua, podendo usá-la livremente para fazer rascunhos (cálculos, desenhos, etc.), a fim de concluir pelas respostas às questões formuladas. No final da prova, o candidato poderá levá-la, juntamente com o rascunho da Redação.
- O tempo de duração desta prova é de 4 horas, incluindo o preenchimento do cartão de leitura óptica (cartão de respostas).
- Cada questão oferece 5 alternativas de resposta representadas pelas letras A, B, C, D, E, sendo apenas uma a correta à formulação da proposta.
- Iniciada a prova, é vedado formular perguntas, pois o entendimento das questões faz parte integrante da mesma.
- Não é permitido comunicar-se com outro candidato ou socorrer-se de consultas a livros, anotações, agendas eletrônicas, gravadores ou usar máquina calculadora, telefone celular e similar; enfim, não lhe é permitido fazer uso de qualquer instrumento receptor/transmissor de mensagens.
- No cartão de leitura óptica (cartão de respostas) você deve preencher somente uma alternativa (A, B, C, D, E) em cada questão, totalmente com caneta de ponta grossa azul ou preta, suficientemente pressionada, conforme o exemplo:

95	<input type="checkbox"/>	A	<input checked="" type="checkbox"/>	C	<input type="checkbox"/>	D	<input type="checkbox"/>	E
96	<input checked="" type="checkbox"/>	A	<input type="checkbox"/>	B	<input checked="" type="checkbox"/>	D	<input type="checkbox"/>	E
97	<input checked="" type="checkbox"/>	A	<input type="checkbox"/>	B	<input type="checkbox"/>	C	<input checked="" type="checkbox"/>	E

- A grade de resposta com alternativa não assinalada ou assinalada com mais de uma resposta, bem como a emendada, rasurada, borrada, ou que vier com outra assinalação que não a prevista no exemplo acima, é nula.
- No final da prova, você deve devolver à fiscalização da sala o cartão de resposta devidamente assinado no verso, depois de verificar a autenticidade de seus dados, sem amassá-lo ou dobrá-lo, porquanto ele é insubstituível.

LINGUAGENS, CÓDIGOS E SUAS TECNOLOGIAS

Leia o texto a seguir “Protagonismo das margens”, da autora Sandra Torossian, para responder as questões 01, 02 e 03.

Protagonismo das margens

01. A transformação da diferença em divisão tem marcado o cenário brasileiro. Acirramento das paixões,
02. emergência e destaque do ódio, tentativa de eliminação da opinião do outro. Borram-se as margens da
03. alteridade para dar lugar à busca de uniformidade.
04. Testemunhamos várias tentativas de eliminar as populações que em algum momento da história foram
05. colocadas à margem. Populações marginais. Marginais à cidade, marginais à cidadania, marginais aos
06. direitos humanos e aos direitos sociais.
07. O fato é que o valor da marginalidade se modificou com as novas superfícies de escritura. O mundo
08. digital mudou a forma de escrever e transformou os comentários em continuidade do texto.
09. Há quem diga que ler os comentários é mais interessante do que ler o próprio texto. Confesso que
10. sempre me surpreendo nessa leitura.
11. O fato é que os comentários, antes marginais, ganham centralidade e se colocam numa relação de
12. continuidade ao texto. Imprime-se assim outro valor para a marginalidade. De aspecto relegado à
13. desimportância passa a ganhar valor.
14. Isso é caro aos psicanalistas os quais aprenderam a escutar o valor do que se diz à margem. Aquilo
15. que se diz sem querer, aquilo que parece não ter importância, aquilo que dizemos achando que nada tem
16. a ver. A margem ganha destaque. De coadjuvante passa a ser protagonista.
17. Com a escrita hipertextual há uma alternância entre as margens e o que já fora considerado texto
18. principal. As populações que já foram marginais hoje ganham lugar no cenário. Não mais como populações
19. secundárias, mas com tons de protagonismo.
20. Cabe lembrar que dificilmente haverá anulação dos novos meios de escritura. Provavelmente não
21. voltamos a utilizar a máquina de escrever tendo o papel como única superfície. É por isso que a inclusão
22. digital apresenta-se como saída. Não há movimentos pró-anulação da cibernética. O movimento é para
23. que todos estejamos nela incluídos.
24. Não há volta para a nova modalidade de escrita. Gritos, manobras e negações são compreensíveis
25. reações à novidade, mas a saída é certamente a da inclusão.

TOROSSIAN, Sandra Djambolakdjian. *Protagonismo das margens*. Sul21, 25/08/15

QUESTÃO 01

Considere as seguintes afirmações sobre o conteúdo do texto:

- I. A expressão “marginais” (linha 05) significa delinquente, desocupado, fora da lei e, por essa razão, populações marginais precisam ser eliminadas.
- II. A marginalidade existe em oposição à centralidade. No universo digital, esses polos se resignificam, já que os comentários representam uma continuidade do texto e passam a partilhar da mesma importância ocupada pelo texto.
- III. Com o acesso à tecnologia, as populações antes marginalizadas ganham certo protagonismo. Também no texto, com a escritura hipertextual, diluem-se as fronteiras entre o centro e as margens.

Quais estão corretas?

- a) Apenas I.
 - b) Apenas II.
 - c) Apenas I e III.
 - d) Apenas II e III.
 - e) I, II e III.
-

QUESTÃO 02

Assinale com **V** (verdadeiro) ou **F** (falso) as afirmações abaixo, referentes a expressões utilizadas no texto.

- () A expressão “tons de protagonismo” (linha 19) indica que o protagonismo não é total, não está consolidado, reforçando a idéia de que se trata de um processo gradual.
- () Para os psicanalistas, “o valor do que se diz à margem” (linha 14) tem grande importância, pois o dito, sob a aparente definição de sem querer, é uma forma de contar-se, revelar-se.
- () Com o avanço tecnológico, o sentido e o valor da expressão “marginalidade” se reconfigura e passa a significar algo periférico, insignificante.
- () A expressão “gritos, manobras e negações” (linha 24) indica o posicionamento da autora a respeito da nova modalidade de escrita caracterizada pela hipertextualidade.

A sequência correta de preenchimento dos parênteses, de cima para baixo, é:

- a) V - F - F - F
- b) V - V - F - F
- c) V - F - V - F
- d) F - V - F - V
- e) V - V - V - F

QUESTÃO 03

Assinale a alternativa correspondente ao **tema** em torno do qual se organiza o discurso apresentado e à **tese** defendida pela autora, respectivamente:

- a) tema: A marginalidade transformada em protagonismo - tese: O mundo digital faz surgir uma nova modalidade de escrita que ressignifica o sentido de marginalidade e garante protagonismo à população.
 - b) tema: A escrita hipertextual e a inclusão digital - tese: A prática da escrita hipertextual favorece a inclusão digital e promove o protagonismo.
 - c) tema: A eliminação das populações marginais - tese: A marginalidade está associada ao comportamento desregrado e violento das pessoas, portanto esses grupos são excluídos da sociedade.
 - d) tema: A inclusão digital e o surgimento de uma nova modalidade de escrita - tese: A inclusão digital é uma alternativa para tirar a população da posição de marginalidade em que vive.
 - e) tema: A resistência à escrita hipertextual e os movimentos pró-anulação da cibernética - tese: As transformações tecnológicas provocam reações nem sempre favoráveis; e esse movimento reforça a situação de marginalidade da população.
-

Leia o poema: “O mapa”, de Mário Quintana, para responder as questões 04 e 05.

Olho o mapa da cidade
Como quem examinasse
A anatomia de um corpo...
(É nem que fosse o meu corpo!)
Sinto uma dor infinita
Das ruas de Porto Alegre
Onde jamais passarei...
Há tanta esquina esquisita,

Tanta nuance de paredes,
Há tanta moça bonita
Nas ruas que não andei
(E há uma rua encantada
Que nem em sonhos sonhei...)
Quando eu for, um dia desses,
Poeira ou folha levada
No vento da madrugada,

Serei um pouco do nada
Invisível, delicioso
Que faz com que o teu ar
Pareça mais um olhar,
Suave mistério amoroso,
Cidade de meu andar
(Deste já tão longo andar!)
E talvez de meu repouso...

QUINTANA, Mario. **Mario Quintana**. Organizado por Tania Franco Carvalhal.
Rio de Janeiro: Nova Aguilar, 2005. p.453.

QUESTÃO 04

Considere as seguintes afirmações sobre o texto:

- I. A cidade é uma temática recorrente na obra de Mario Quintana. No poema, ele aborda o processo de modernização da cidade de Porto Alegre, expressando sentimento de tristeza e melancolia.
- II. O poeta lamenta não ter mais o domínio da cidade e de seu espaço e recorre à imaginação para lamentar aquilo que não viu e que jamais verá, como as moças bonitas, as esquinas esquisitas.
- III. Embora o poema seja revelador da relação de identificação do poeta com a cidade de Porto Alegre, Quintana projeta em seus versos uma imagem utópica da cidade imaginária, negando a realidade que ele queria diferente.

Quais estão corretas?

- a) Apenas I.
- b) Apenas II.
- c) Apenas I e II.
- d) Apenas II e III.
- e) I, II e III.

QUESTÃO 05

Marque com V (verdadeiro) ou F (falso) as afirmações abaixo, referentes à linguagem empregada por Mario Quintana.

- () O poema apresenta linguagem hiperbólica na análise e descrição da cidade de Porto Alegre.
- () Quintana focaliza o cotidiano, apontando para o encantamento das coisas simples, aparentemente corriqueiras.
- () Em seus versos, Quintana expressa sua paixão pelas transformações do espaço urbano que se contrapõe ao sentimento de tristeza resultante da pequenez do homem frente à modernidade.
- () Seu poema evidencia escapismo do mundo, manifestado na cidade imaginária e na referência à morte.

A sequência correta de preenchimento dos parênteses, de cima para baixo, é:

- a) V - F - F - F
 - b) F - V - F - V
 - c) V - V - V - F
 - d) V - F - V - F
 - e) V - V - F - F
-

MATEMÁTICA E SUAS TECNOLOGIAS

QUESTÃO 06

Carlos possui um veículo que funciona ou com gasolina ou com álcool. Interessado em saber qual a melhor opção, ou seja, qual dos combustíveis lhe permite percorrer a maior distância com o menor custo, ele realizou alguns testes. O quadro a seguir apresenta os resultados obtidos.

Combustível	Consumo	Distância percorrida
Gasolina	10 litros	140 km
Álcool	15 litros	150 km

Sabendo que no posto em que Carlos abastece o litro do álcool custa R\$ 2,50, e o litro da gasolina sai por R\$ 3,30, analise, com base nas informações, as seguintes afirmações:

- I - Carlos deve optar pela gasolina para conseguir a melhor relação entre distância e custo.
- II - Se a gasolina custasse R\$ 3,50 os dois combustíveis apresentariam o mesmo desempenho em relação à distância percorrida e custo.
- III - Se o preço dos dois combustíveis fosse de R\$ 3,00 o litro, o álcool seria a melhor opção em relação à distância percorrida e custo.

Sobre as afirmações acima, marque a opção correta:

- a) Apenas a afirmativa I está correta.
- b) Apenas a afirmativa II está correta.
- c) Apenas a afirmativa III está correta.
- d) Somente as afirmativas I e II estão corretas.
- e) Todas as afirmativas estão corretas.

QUESTÃO 07

Três irmãos, Alberto, Bianca e Carlos, resolveram jogar ping-pong. Para decidir quem iria esperar enquanto os outros dois jogam, Alberto propôs o seguinte:

Alberto: - Eu não quero jogar “discordar”, acho que vocês combinam o resultado. Em vez disso vamos jogar duas moedas. O que vocês acham?

Bianca: - Tudo bem, se o resultado for “cara” nas duas moedas eu fico de fora na primeira partida. Se o resultado for “coroa” nas duas moedas o Carlos é quem fica de fora. Mas se os resultados nas duas moedas forem diferentes, então você será o primeiro a esperar.

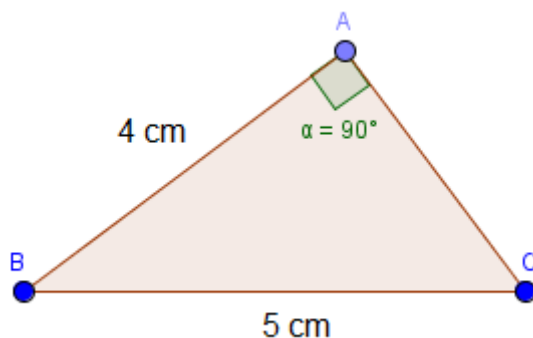
Os dois irmãos concordam com a proposta de Bianca.

Com base no acordo entre os irmãos, e sabendo que a moeda utilizada é honesta, ou seja, os dois lados, cara e coroa, são equiprováveis, **qual alternativa correta:**

- a) A probabilidade de ficar de fora é a mesma para os três irmãos.
 - b) A probabilidade de Alberto jogar é menor que a dos seus irmãos.
 - c) A probabilidade de Bianca jogar é menor que a dos seus irmãos.
 - d) A probabilidade de Carlos jogar é menor que a dos seus irmãos.
 - e) A probabilidade de Bianca jogar é maior que a probabilidade de Carlos jogar.
-

QUESTÃO 08

Qual a área do o triângulo retângulo ABC representado na figura abaixo?

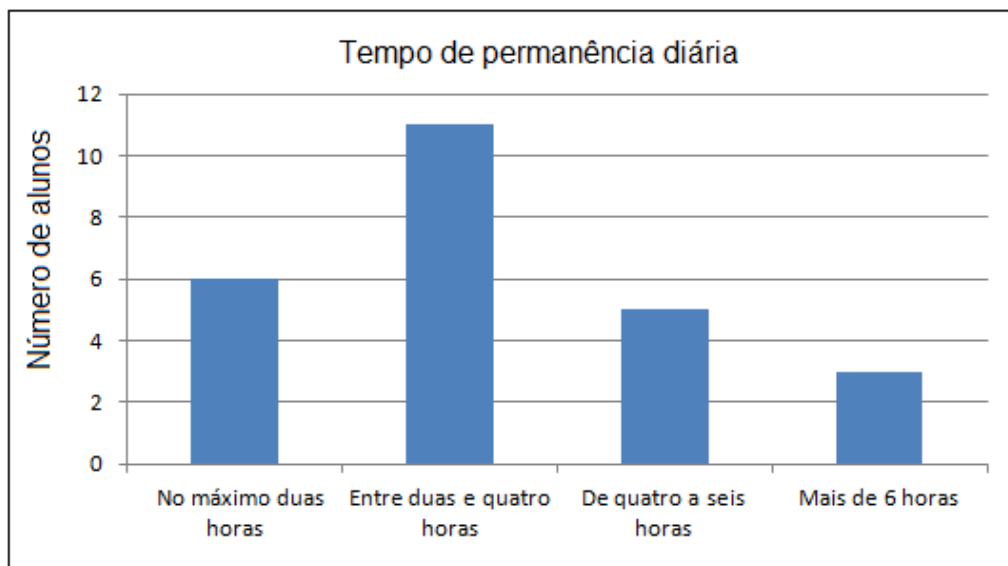


Marque a opção correta:

- a) 20 cm^2
- b) 12 cm^2
- c) 10 cm^2
- d) 6 cm^2
- e) Nenhuma das alternativas anteriores.

QUESTÃO 09

Uma professora fez uma pesquisa com os alunos de uma turma, sobre o tempo de acesso diário a internet. As respostas de todos alunos foram organizadas em quatro intervalos, como representados no gráfico a seguir:



Com base no gráfico podemos afirmar que os alunos que permanecem de quatro a seis horas na internet representam:

- a) 5% do total de alunos pesquisados.
 - b) 10% do total de alunos pesquisados.
 - c) 20% do total de alunos pesquisados.
 - d) 41,67% do total de alunos pesquisados.
 - e) Nenhuma das alternativas anteriores.
-

QUESTÃO 10

Dada as matrizes A, B e C abaixo, marque a alternativa que apresenta os valores de x e y de forma que a matriz C seja o resultado da soma das matrizes A e B.

$$A = \begin{bmatrix} x & x \\ 2 & 3 \end{bmatrix} \quad B = \begin{bmatrix} 2y & -y \\ 5 & x \end{bmatrix} \quad C = \begin{bmatrix} 10 & 2y \\ 7 & 9 \end{bmatrix}$$

Marque a opção correta:

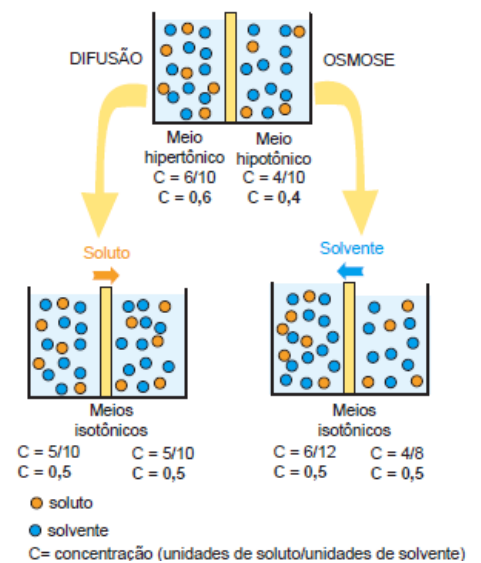
- a) $x = 2$ e $y = 5$
- b) $x = 2$ e $y = 3$
- c) $x = 6$ e $y = 4$
- d) $x = 6$ e $y = 2$
- e) Nenhuma das alternativas anteriores.

CIÊNCIAS NATURAIS E SUAS TECNOLOGIAS

QUESTÃO 11

Sabemos que o transporte de substâncias orgânicas e inorgânicas nas células é um processo dinâmico e fundamental para a manutenção do metabolismo celular. O transporte dessas substâncias, através da membrana plasmática da célula, pode requerer energia ou não. Quando existe o consumo de energia, denominamos de Transporte Ativo e quando não requer, denominamos de Transporte Passivo. Com base na análise da imagem ao lado, escolha a alternativa correta:

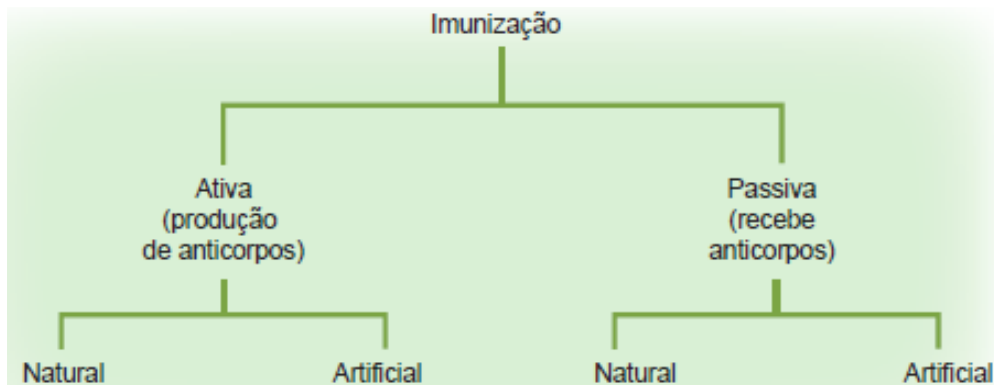
- a) Representa o processo de Transporte Ativo, visto que o solvente passa para o meio menos concentrado, sem gasto de energia.
- b) Representa o processo de Transporte Passivo, visto que o soluto passa para o meio menos concentrado, sem gasto de energia.
- c) Representa o processo de Transporte Ativo, visto que o soluto passa do meio menos concentrado para o meio mais concentrado, com gasto de energia.
- d) Representa o processo de Transporte Passivo, visto que o soluto passa para o meio mais concentrado, sem gasto de energia.
- e) Nenhuma das alternativas está correta.



Fonte: Adaptado acervo CNEC

QUESTÃO 12

De maneira geral, os animais podem desenvolver uma resposta imunológica a uma doença infecciosa, via imunização passiva ou ativa. Na imunização passiva, um organismo recebe os anticorpos produzidos por outro organismo e na imunização ativa o organismo produz os próprios anticorpos. Com base na imagem abaixo, escolha a alternativa correta.



Fonte: Adaptado acervo CNEC

- a) A aplicação de soro é um exemplo de imunização ativa artificial.
- b) A placenta e o leite materno são exemplos de imunização ativa natural.
- c) A vacinação é um exemplo de imunização ativa artificial.
- d) O contato natural com os patógenos é um meio natural de imunização passiva.
- e) Nenhuma das respostas está correta.

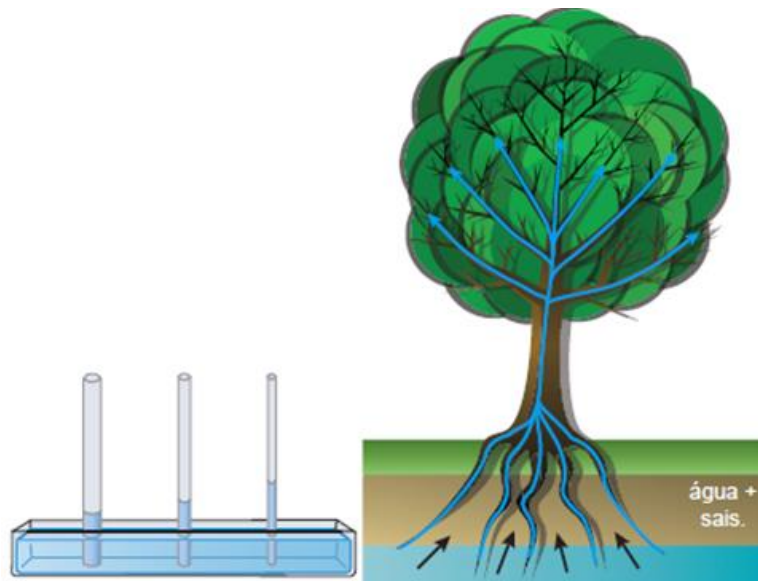
QUESTÃO 13

É crescente a preocupação de cientistas de diferentes instituições de pesquisa com relação as alterações nas dinâmicas físicas, químicas e biológicas que fazem a manutenção da atmosfera do nosso planeta. A atividade humana tem considerável impacto na alteração dessa estrutura gasosa que reveste o planeta, gerando as condições necessárias para a manutenção da vida. Com relação aos impactos causados pela emissão de CFCs (Clorofluorcarbonos), é correto afirmar:

- a) São responsáveis pela gradual diminuição da camada de ozônio, o que permite uma maior entrada de radiação Ultra Violeta junto a superfície do planeta Terra.
 - b) A camada de ozônio não apresenta qualquer relevância para a manutenção da vida no planeta Terra.
 - c) Os CFCs são liberados na atmosfera, principalmente em razão dos incêndios florestais.
 - d) Quanto maior o índice de radiação Ultra Violeta junto a superfície da Terra, melhor o desempenho das plantas e dos animais.
 - e) Nenhuma das respostas está correta.
-

QUESTÃO 14

Um dos princípios da física que auxiliam na compreensão de como a água e os minerais contidos no solo podem ser conduzidos até as folhas de uma grande árvore, é o princípio da capilaridade dos vasos. Veja a imagem ao lado e escolha a alternativa correta:



Fonte: Adaptado acervo CNEC

- a) As plantas de maneira geral possuem células pulsáteis que bombeiam a água e os sais em direção as suas folhas.
- b) Quanto maior o diâmetro de um vaso condutor, maior será a força de coesão e adesão, possibilitando a planta uma maior capacidade de transportar água e sais até as suas folhas.
- c) O diâmetro dos vasos condutores não interfere na capacidade da planta em transportar água e sais até as suas folhas.
- d) Quanto menor o diâmetro de um vaso condutor, maior será a força de coesão e adesão, possibilitando a planta uma maior capacidade de transportar água e sais até as suas folhas.
- e) Nenhuma das respostas está correta.

QUESTÃO 15

Uma das parasitoses de maior frequência no Brasil é a ascaridíase. Essa patologia é causada por um verme da espécie *Ascaris lumbricoides* (lombriga). Com relação a esta parasitose, escolha a alternativa correta:

- a) O *Ascaris* fica alojado no fígado comprometendo a função hepática da pessoa contaminada.
 - b) Este parasita depende de hospedeiros intermediários para completar o seu ciclo de vida.
 - c) A única maneira de se contaminar com este parasita é entrando em água contaminada com as suas larvas.
 - d) O *Ascaris* é o maior parasita humano, chegando a medir mais de dois metros.
 - e) Todas as alternativas estão erradas.
-

QUESTÃO 16

“Duas Alemanhas se enfrentaram, nesta segunda-feira, nas ruas de Dresden. Dois dias depois do atentado xenófobo contra a nova prefeita de Colônia, cerca de 20.000 pessoas comemoraram o primeiro aniversário do movimento islamofóbico Pegida com um discurso radical que exige “deportações maciças imediatas”. Separados delas por cerca de mil policiais, algo em torno de 15.000 manifestantes favoráveis ao asilo para refugiados defendiam “coração em vez de ódio”. O Pegida se vê reforçado pela onda migratória que tem gerado preocupação em todo o país. “Fora Merkel!, Fora Merkel!”, gritavam os manifestantes.”

Fonte: <http://goo.gl/SQMgSI>, acessado em 24/10/2015

A partir da análise do texto e de seus conhecimentos sobre a crise dos refugiados que envolve mais diretamente o Oriente Médio e a Síria, analise as proposições abaixo.

I - Os movimentos xenófobos são uma realidade mais presente na Alemanha do que em outros países europeus, em especial devido à esse país apresentar desenvolvimento econômico inferior a outros gigantes, como a Espanha, a França e a Itália.

II - O grupo mais significativo numericamente entre os refugiados atuais é composto por Sírios, os quais fogem da guerra civil estabelecida naquele país desde a chamada “Primavera Árabe”.

III - Na Alemanha, há consenso entre a população da necessidade de deportação dos imigrantes islâmicos, possibilitando a entrada de um maior número de cristãos de outros países europeus.

Estão corretas as afirmações:

- a) Somente I.
- b) Somente II.
- c) Somente III.
- d) Somente I e II.
- e) I, II e III.

QUESTÃO 17

“Após a chuva registrada na madrugada deste sábado (17), o nível do lago Guaíba, em Porto Alegre, atingiu a maior marca nos últimos 74 anos. Pela manhã, a régua eletrônica no Cais Mauá, no centro da capital, apontou a marca de 2,93 metros e ultrapassou o recorde de 1967. Essa é a segunda maior cheia da história do rio. Parte do cais está alagada em função da cheia. As 14 comportas que protegem o centro de Porto Alegre foram fechadas para evitar alagamentos. O recorde do nível do Guaíba é de 4,76 metros, ocorrido na enchente de 1941. Os mais atingidos pela cheias gaúchas são as famílias da região das ilhas em Porto Alegre.”

Fonte: <http://goo.gl/ec3dBp>

A reportagem acima guarda uma incoerência ao chamar o lago Guaíba primeiro de lago, e depois, de rio. A Geografia já provou, no entanto, que o Guaíba é um Lago, cujas cheias atuais resultam do grande volume de chuvas das últimas semanas. Segundo os cientistas, essas chuvas em excesso são provocadas por um fenômeno climático, gerado pelo aquecimento anormal das águas do Pacífico equatorial, nas proximidades do litoral do Peru.

Trata-se do fenômeno conhecido como:

- a) Ressurgência.
 - b) La Niña.
 - c) El Niño.
 - d) Regressão Marinha.
 - e) Transgressão Marinha.
-

QUESTÃO 18

A UNIÃO EUROPEIA constitui-se atualmente no principal exemplo de união política e econômica entre países. A respeito desse bloco, analise as proposições a seguir.

I - As origens da União Europeia remontam ao pós 2ª Guerra Mundial, quando organizou-se a Comunidade Europeia do Carvão e do Aço e o Mercado Comum Europeu.

II - Devido à suas rivalidades históricas, Alemanha e França não integram a União Europeia, que é liderada pelo Reino Unido e pela Itália.

III - O chamado Espaço Schengen corresponde ao território dos países integrantes da União Europeia onde é proibida a livre circulação de pessoas e mercadorias, funcionando como uma proteção dos países europeus em relação aos fluxos imigratórios.

Estão corretas as afirmações:

- a) Somente I.
- b) Somente II.
- c) Somente III.
- d) Somente I e II.
- e) I, II e III.

QUESTÃO 19

“Conjunto de normas que regulam o comportamento do homem em sociedade, adquiridas pela educação, pela tradição e pelo cotidiano.”

A frase acima expressa mais apropriadamente o conceito de:

- a) Ética.
- b) Moral.
- c) Legalidade.
- d) Civilidade.
- e) Tolerância.

QUESTÃO 20

“A produção de petróleo no Brasil é marcada pelo aumento acelerado do desempenho nos últimos anos. Há cerca de 20 anos o petróleo brasileiro era, em sua maioria, oriundo de importações. Atualmente, o país já detém a autossuficiência do produto, ou seja, já produz o suficiente para atender ao mercado interno.”

Fonte: <http://goo.gl/s3xcjx>, acessado em 24/10/2015

Sobre a produção de petróleo no Brasil, analise as afirmações.

I - A Petrobrás é uma empresa privada e mantém o monopólio da extração, transformação e transporte do petróleo e seus derivados no Brasil.

II - Atualmente, o Brasil produz petróleo suficiente para atender sua demanda interna.

III - A produção de petróleo no Brasil não tem crescido em função da corrupção e da má gestão da Petrobrás, principal empresa produtora.

IV - As crises mundiais do petróleo foram importantes à medida que motivaram diversos países, inclusive o Brasil, a aumentar sua produção interna, dentre outras medidas.

Estão corretas as alternativas:

- a) Somente I.
- b) Somente II.
- c) Somente III.
- d) Somente I, II e IV.
- e) Somente II e IV.

PROVA DE REDAÇÃO

Leia os textos abaixo:

Sabemos hoje que as **identidades culturais** não são rígidas nem, muito menos, imutáveis. São resultados sempre transitórios e fugazes de processos de identificação. Mesmo as identidades aparentemente mais sólidas, como a de mulher, homem, país africano, país latino-americano ou país europeu escondem as negociações de sentidos, jogos de polissemia, choques de temporalidades em constante processo de transformação [...] Sabemos também que as identificações, além de plurais, são dominadas pela obsessão da diferença e pela hierarquia das distinções. Quem pergunta pela sua identidade questiona as referências hegemônicas mas, ao fazê-lo, coloca-se na posição de outro e, simultaneamente, numa situação de carência e por isso de subordinação.

SANTOS. Boaventura de Sousa. **Pela mão de Alice - O social e o político na pós-modernidade**. 9ª ed. Coimbra: Almedina, 2013.

A identidade cultural é um sistema de representação das relações entre indivíduos e grupos, que envolve o compartilhamento de patrimônios comuns como a língua, a religião, as artes, o trabalho, os esportes, as festas, entre outros. É um processo dinâmico, de construção continuada, que se alimenta de várias fontes no tempo e no espaço. Como consequência do processo de globalização as identidades culturais não apresentam hoje contornos nítidos e estão inseridas numa dinâmica cultural fluida e móvel.

[...]

O que se impõe hoje, a partir da noção contingente, contextualizada e relacional da identidade, é garantir que a multiplicidade e a diversidade sejam preservadas, que a cultura, como uma longa conversa entre partes distintas, permita que convivam sujeitos dos mais diferentes matizes. Em vez disso, quando a cultura local parece esgarçar-se como consequência da globalização, a afirmação de identidades duras parece funcionar, para muitos sujeitos, como elemento apaziguador que busca deter e solidificar a fluidez característica da época atual. Verificam-se, então, manifestações extremadas, em que nacionalismos, fundamentalismos, xenofobias, preconceitos, são ressuscitados e lutas sem fim são travadas em nome da preservação de identidades.

OLIVEIRA, Lúcia Maciel Barbosa de. **Dicionário de Direitos Humanos**. Disponível em: <http://goo.gl/J52aru>. Acessado em 26/10/2015.

À medida que o mundo se globalizou nas mais diferentes esferas (política, econômica, científica, cultural, tecnológica), a **diversidade** tornou-se um tema dominante em nossa época, pois o fenômeno da globalização, associado à eliminação das fronteiras, tende a suplantiar o diferente, em nome da homogeneidade e da unificação. Paradoxalmente, vivemos e presenciamos cotidianamente fatos que evidenciam a persistência e o aprofundamento das lutas por **identidade** (culturais, étnicas, de gênero, etc.). Considerando os textos acima, produza um texto em que você discuta o seguinte tema:

“Identidade: a fronteira entre a diversidade e o preconceito”

INSTRUÇÕES:

Considerando a reflexão e as ideias contidas nos textos motivadores,

- **Selecione** um tipo de identidade (étnica, cultural, de gênero, religiosa, regional/nacional, etc.) em que você destaque os conflitos (lutas, dificuldades) que a constitui;

- **Avalie** como e por que o processo de preservação e/ou negação da identidade escolhida pode promover a mudança, a transformação nas relações em sociedade;

- **Escreva** uma redação, de **caráter dissertativo-argumentativo**, defendendo seu ponto de vista.

1. Crie um título para seu texto;

2. Escreva uma redação com extensão mínima de 20 linhas e máxima de 30 linhas, considerando-se letra de tamanho regular.

3. As redações que apresentarem segmentos emendados, ou rasurados, ou repetidos, ou linhas em branco terão esses espaços descontados do cômputo total de linhas.

4. Lápis poderá ser usado apenas no rascunho; ao passar sua redação para a folha definitiva, faça-o com letra legível e utilize caneta.



CAMPANHA NACIONAL DE ESCOLAS DA COMUNIDADE
Superintendência Nacional SGAN Qd. 608, Módulo D 70.850-080 Brasília
Tel./Fax (0xx61) 340.4910/274.4556 c nec@c nec.br - CNPJ: 33.631.384/0001/19

PROCESSO SELETIVO 2015/1

RASCUNHO DA REDAÇÃO

Título:

- 01 _____
- 02 _____
- 03 _____
- 04 _____
- 05 _____
- 06 _____
- 07 _____
- 08 _____
- 09 _____
- 10 _____
- 11 _____
- 12 _____
- 13 _____
- 14 _____
- 15 _____

16 _____

17 _____

18 _____

19 _____

20 _____

21 _____

22 _____

23 _____

24 _____

25 _____

26 _____

27 _____

28 _____

29 _____

30 _____



CAMPANHA NACIONAL DE ESCOLAS DA COMUNIDADE
Superintendência Nacional SGAN Qd. 608, Módulo D 70.850-080 Brasília
Tel./Fax (0xx61) 340.4910/274.4556 c nec@c nec.br - CNPJ: 33.631.384/0001/19

PROCESSO SELETIVO 2015/1

Nº de Inscrição do Candidato:	Nota:
Corretor:	Assinatura do Correto:

Título:

01 _____

02 _____

03 _____

04 _____

05 _____

06 _____

07 _____

08 _____

09 _____

10 _____

11 _____

12 _____

13 _____

14 _____

15

16

17

18

19

20

21

22

23

24

25

26

27

28

29

30